




CONTENANCE	Séquence 1	Séance 4
CE1	TRACE ÉCRITE AVEC CONCLUSION	

	<p>Quelle bouteille peut contenir le plus d'eau ?</p> <p>On a compté le nombre de gobelets contenus par chaque bouteille mais les deux bouteilles peuvent contenir deux gobelets pleins et au troisième ça déborde.</p> <p>On ne peut pas savoir lequel peut contenir le plus d'eau.</p>
	
	<p>La bouteille A peut contenir</p> <p>La bouteille B peut contenir</p>
	<p>La bouteille B peut contenir d'eau que la bouteille A.</p>
	<p>On peut utiliser plusieurs étalons différents pour mesurer ce que peut contenir un récipient en commençant par un étalon de grande contenance pour aller plus vite puis en finissant avec un étalon de petite contenance pour être précis.</p>